

MONITOR EDUCACIONAL

Escreva seu nome e número de inscrição de forma legível nos locais indicados:

Nome do(a) Candidato(a)

Nº de inscrição

Este caderno de questões está assim constituído:

DISCIPLINAS	Nº QUESTÕES
Português	10
Matemática	10
Informática	05
Legislação, Conhecimentos Gerais e Específicos	15
Total de questões	40

INSTRUÇÕES:

- Confira devidamente o material (CARTÃO DE RESPOSTAS e CADERNO DE QUESTÕES); se houver falha, solicite a presença do fiscal.
- Confira seus dados no CARTÃO DE RESPOSTAS: NOME, Nº da INSCRIÇÃO e CARGO. ASSINE no espaço indicado na frente do cartão.
- O CARTÃO DE RESPOSTAS deverá ser preenchido a caneta esferográfica, azul ou preta, ponta grossa, sem rasuras e apenas uma **ÚNICA** alternativa poderá ser marcada em cada questão. Não amasse nem dobre o CARTÃO DE RESPOSTAS; evite usar borracha. É vedada a substituição do CARTÃO DE RESPOSTAS decorrente de erro cometido por candidato.
- Durante a prova, não é permitida a comunicação entre candidatos nem a utilização de máquina calculadora e/ou similares, livros, anotações, réguas de cálculo, impressos ou qualquer outro material de consulta.
- Se o CARTÃO DE RESPOSTAS contiver maior número de alternativas e de questões, preencha apenas as correspondentes à sua prova; as demais ficam em branco.
- O tempo de duração da prova objetiva será de **até 3 horas**.
- Ao final dos trabalhos, **DEVOLVA** ao Fiscal da sala, juntamente com o CARTÃO DE RESPOSTAS devidamente preenchido e assinado, o CADERNO DE QUESTÕES, tendo em vista a obrigatoriedade de arquivo no Município.
- A parte destacável no final desta capa, que serve para copiar as suas respostas, somente poderá ser destacada no ato da entrega do material na mesa do fiscal.
- Os três últimos candidatos de cada sala de prova deverão permanecer no recinto, a fim de acompanhar os fiscais até a coordenação para o lacre dos envelopes, quando, então, poderão retirar-se do local simultaneamente, após concluído.
- Direitos autorais reservados à Objetiva Concursos Ltda. Proibida a reprodução, ainda que parcial, sem autorização prévia.

✂..... (dobre e destaque esta parte para copiar suas respostas)

01	<input type="checkbox"/>	02	<input type="checkbox"/>	03	<input type="checkbox"/>	04	<input type="checkbox"/>	05	<input type="checkbox"/>	06	<input type="checkbox"/>	07	<input type="checkbox"/>	08	<input type="checkbox"/>	09	<input type="checkbox"/>	10	<input type="checkbox"/>
11	<input type="checkbox"/>	12	<input type="checkbox"/>	13	<input type="checkbox"/>	14	<input type="checkbox"/>	15	<input type="checkbox"/>	16	<input type="checkbox"/>	17	<input type="checkbox"/>	18	<input type="checkbox"/>	19	<input type="checkbox"/>	20	<input type="checkbox"/>
21	<input type="checkbox"/>	22	<input type="checkbox"/>	23	<input type="checkbox"/>	24	<input type="checkbox"/>	25	<input type="checkbox"/>	26	<input type="checkbox"/>	27	<input type="checkbox"/>	28	<input type="checkbox"/>	29	<input type="checkbox"/>	30	<input type="checkbox"/>
31	<input type="checkbox"/>	32	<input type="checkbox"/>	33	<input type="checkbox"/>	34	<input type="checkbox"/>	35	<input type="checkbox"/>	36	<input type="checkbox"/>	37	<input type="checkbox"/>	38	<input type="checkbox"/>	39	<input type="checkbox"/>	40	<input type="checkbox"/>

PORTUGUÊS

Consumir sal demais – todo mundo sabe – pode causar aumento da pressão arterial. E não precisa ter mais idade para sentir os efeitos do excesso de sódio no organismo. No Brasil, ainda não _____ dados oficiais da hipertensão em jovens, mas os médicos relatam que os casos têm sido cada vez mais frequentes.

Uma forma fácil de prevenir a doença é, claro, cortar a quantidade de sal na comida. Mas não é necessário comer aqueles pratos sem graça por causa disso. Alguns temperos, além de dar sabor aos pratos e ajudar a utilizar menos sal, ainda trazem outros benefícios à saúde.

O alho, por exemplo, possui aquele cheiro que impregna nas mãos e na boca, mas é exatamente nele que estão as principais características desse tempero. O odor do alho é formado por compostos que _____ enxofre, e ele é bom para o tratamento de resfriados, infecções pulmonares e digestivas. O alecrim é uma planta que possui óleo volátil, o qual melhora a circulação, estimula a digestão e possui um leve efeito diurético. A canela é um alimento termogênico. Ela aumenta o metabolismo e auxilia na perda de peso. Além disso, ela é usada para tratar náusea, vômito e problemas digestivos. Já o óleo de canela contém eugenol, substância que tem uma leve ação sedativa e ajuda a relaxar a musculatura. A cebolinha contém propriedades bactericidas que ajudam a controlar a pressão arterial e contém as vitaminas A e C.

O coentro é muito usado para temperar peixes; ele contém os flavonoides (antioxidantes) linalol, pineno e terpeno, que auxiliam na digestão e _____ propriedades bactericidas e fungicidas. A semente do coentro é rica nas vitaminas C, vitaminas do complexo B e cálcio. O louro, aquela folhinha que usamos para temperar o feijão, estimula os sucos digestivos. Ele contém fitonutrientes que previnem dores de cabeça. O manjerição é antioxidante, ajuda na digestão, alivia cólicas e diminui a formação de gases. E ainda ajuda nas dores musculares, pois é rico em eugenol. A noz-moscada, erva de cheiro e sabor bem fortes, é rica em miristicina e, por isso, é usada nos remédios para náusea, má digestão e cólica. O orégano também é antioxidante, pois contém muito cálcio e um óleo essencial com propriedades fungicidas. As folhinhas estimulam o sistema imunológico, melhoram a digestão e o trato respiratório. As pimentas, por sua vez, abundantes no Brasil, têm capsaicina. A substância é usada no tratamento de diversos tipos de dores. Estudos também apontam que a capsaicina libera endorfinas no cérebro. Além disso, as pimentas são potentes vasodilatadores e descongestionantes e são ricas em vitaminas A e C.

<http://super.abril.com.br/blogs/superlistas...> - adaptado.

1) Assinalar a alternativa que preenche as lacunas do texto CORRETAMENTE:

- a) há - contém - tem
- b) há - contém - têm
- c) à - contém - tem
- d) à - contém - têm

2) Em relação ao texto, analisar os itens abaixo:

- I - Segundo os médicos, existem cada vez mais casos de jovens hipertensos no Brasil.
- II - Uma das formas de reduzir a hipertensão é diminuir a quantidade de sal na comida.
- III - Há temperos que podem contribuir no sabor dos pratos e ajudar a reduzir a quantidade de sal.

Está(ão) CORRETO(S):

- a) Somente o item II.
- b) Somente os itens I e II.
- c) Somente os itens I e III.
- d) Somente os itens II e III.

3) Em conformidade com o texto, numerar a 2ª coluna de acordo com a 1ª e, após, assinalar a alternativa que apresenta a sequência CORRETA:

- (1) Alho.
 - (2) Alecrim.
 - (3) Canela.
 - (4) Cebolinha.
 - (5) Louro.
-
- () Aumenta o metabolismo e auxilia no emagrecimento.
 - () Seus nutrientes previnem dores de cabeça.
 - () Melhora a circulação, estimula a digestão, possui leve efeito diurético.
 - () Empregado no tratamento de resfriados, infecções pulmonares e digestivas.
 - () Atua no controle da pressão arterial.
-
- a) 2 - 1 - 4 - 5 - 3.
 - b) 1 - 2 - 3 - 4 - 5.
 - c) 4 - 3 - 5 - 1 - 2.
 - d) 3 - 5 - 2 - 1 - 4.

4) Em “A hipertensão, segundo dados do Ministério da Saúde, é a responsável...”, a oração sublinhada indica ideia de:

- a) Conformidade.
- b) Adição.
- c) Oposição.
- d) Conclusão.

5) Em relação à colocação pronominal, analisar a sentença abaixo:

O endemismo corresponde às frutas que se perpetuaram espontaneamente em um determinado ecossistema (1ª parte). Nos relatos de suas andanças pelas veredas do sertão, ele se refere não só ao gosto, mas insinua outras vantagens da fruta (2ª parte). A devastação reduziu a mata a menos de 5% de sua área original e hoje pode-se contar nos dedos da mão o número de pés dessa fruta (3ª parte).

A sentença está:

- a) Totalmente correta.
- b) Correta somente em suas 1ª e 2ª partes.
- c) Correta somente em suas 2ª e 3ª partes.
- d) Correta somente em suas 1ª e 3ª partes.

6) Em relação à regência, analisar os itens abaixo:

- I - Além de prejudicar a cadeia alimentar, o desaparecimento de frutas tão diferentes significa um desperdício.
- II - Os especialistas acreditam que sua origem seja a Ásia, embora ninguém possa garantir com precisão.

- a) Os itens I e II estão corretos.
- b) Os itens I e II estão incorretos.
- c) Somente o item I está correto.
- d) Somente o item II está correto.

7) Assinalar a alternativa em que o termo sublinhado NÃO se classifica como adjetivo:

- a) A construção do enorme prédio não parava de crescer.
- b) Os ansiosos estudantes não aguentavam esperar pelo resultado da prova.
- c) O longo caminho até a escola deixava os alunos cansados.
- d) Marcos costumava jogar muito bem, porém ontem não foi um dia bom.

8) Quanto à concordância verbal, marcar C para as afirmativas Certas, E para as Erradas e, após, assinalar a alternativa que apresenta a sequência CORRETA:

- () Joana e Patrícia tem muito trabalho a fazer até o final do ano.
- () O frasco de perfume contém 500mL.
- () Eles disseram que vêm para a festa de final de ano.

- a) C - C - E.
- b) E - E - E.
- c) E - C - C.
- d) C - E - C.

9) Assinalar a alternativa em que o uso dos porquês está CORRETO:

- a) O coco-da-baía, por exemplo, só chegou ao Brasil porque algum navegador decidiu tirá-lo de seu ambiente natural.
- b) Por quê cada vez menos gente come frutas e verduras?
- c) Não se entende o por que de tudo isso.
- d) Não foste à feira durante a semana porquê?

10) Quanto à pontuação, marcar C para as afirmativas Certas, E para as Erradas e, após, assinalar a alternativa que apresenta a sequência CORRETA:

- () O resultado foi marcante no fígado, órgão responsável pelo metabolismo de álcool e gorduras.
- () O problema é que a gordura, os carboidratos e os açúcares continuariam em nosso sangue, causando estragos no organismo.

- a) C - E.
- b) E - C.
- c) E - E.
- d) C - C.

MATEMÁTICA

11) Sabe-se que determinado modelo de impressora imprime 25 folhas por minuto. Quanto tempo esse modelo de impressora levará para imprimir 110 folhas?

- a) 4 minutos e 40 segundos.
- b) 4 minutos e 24 segundos.
- c) 240 segundos.
- d) 5 minutos.

12) Sabe-se que a nota de Pedro na prova de matemática foi 84 pontos e a nota de Antônio na mesma prova foi 68 pontos. Qual a razão da nota de Antônio e da nota de Pedro?

- a) $\frac{1}{2}$
- b) $\frac{17}{21}$
- c) 7
- d) $\frac{21}{17}$

13) De um total de 4.350 inscritos em determinado concurso público, 30% eram para o cargo de motorista e o restante para o cargo de auxiliar administrativo. Quantos inscritos havia para o cargo de motorista e auxiliar administrativo, respectivamente?

- a) 725 e 3.625.
- b) 1.150 e 3.200.
- c) 1.305 e 3.045.
- d) 1.780 e 2.570.

14) Assinalar a alternativa que apresenta o valor de x que satisfaz a equação abaixo:

$$3(5 + x) = 33$$

- a) 4
- b) 6
- c) 8
- d) 12

15) A sala em que Paulo realizou uma entrevista de emprego era o próximo número primo maior que 14. Qual era o número da sala em que Paulo realizou a entrevista?

- a) 15
- b) 17
- c) 19
- d) 21

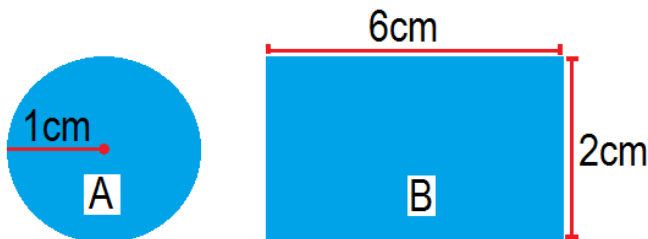
16) Em determinada loja de eletrodomésticos, para realizar compras no crediário, é solicitado ao cliente que pague $\frac{2}{3}$ do valor total da compra como entrada e o restante parcelado em até 3 vezes iguais. De acordo com essas informações, ao realizar uma compra no valor de R\$ 180,00 e parcelando-a em 3 vezes conforme as condições da loja, qual será o valor de cada parcela?

- a) R\$ 20,00
- b) R\$ 30,00
- c) R\$ 40,00
- d) R\$ 60,00

17) Determinada conta de telefone no valor de R\$ 38,00 foi paga 8 dias após o vencimento. Sabendo-se que após o vencimento foi cobrada uma taxa de juros simples de 2% dia, qual foi o valor pago de juros?

- a) R\$ 3,75
- b) R\$ 4,26
- c) R\$ 5,25
- d) R\$ 6,08

18) De acordo com as figuras A e B, analisar os itens abaixo:



- I - A área da figura A é de $3,14\text{cm}^2$ e seu perímetro é $6,28\text{cm}$.
- II - A área da figura B é de 12cm^2 e seu perímetro é 8cm .
- III - A soma das áreas da figura A e da figura B é $15,14\text{cm}^2$.

Está(ão) CORRETO(S):

- a) Somente o item I.
- b) Somente os itens I e III.
- c) Somente os itens II e III.
- d) Todos os itens.

19) Um ônibus escolar transporta de segunda a sexta-feira a seguinte quantidade de alunos:

Dia da semana	Quantidade de alunos transportados
Segunda-feira	38
Terça-feira	36
Quarta-feira	40
Quinta-feira	34
Sexta-feira	32

Qual é a média diária de alunos transportados nesses dias?

- a) 35
- b) 40
- c) 36
- d) 34

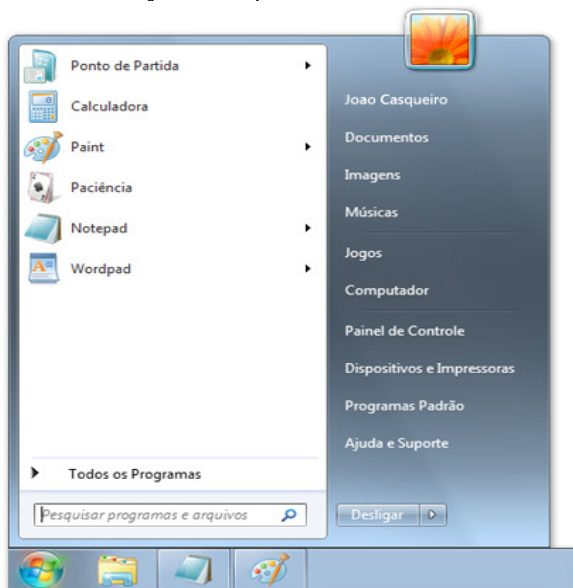
20) Ao realizar a prova de determinado concurso público, das 10 questões de matemática, Augusto acertou 9. Sabendo-se que após os recursos uma questão foi anulada, qual a probabilidade de essa questão ter sido a que Augusto errou?

- a) 10%
- b) 15%
- c) 20%
- d) 25%

INFORMÁTICA

Atenção! Para responder às questões de Informática, a menos que seja explicitamente informado o contrário, considerar que os programas mencionados encontram-se na versão Português-BR e, em sua configuração padrão de instalação, possuem licença de uso, o mouse está configurado para destros, um clique ou duplo clique correspondem ao botão esquerdo do mouse e teclar corresponde à operação de pressionar uma tecla e, rapidamente, liberá-la, acionando-a apenas uma vez. Dessa forma, as teclas de atalho, os menus, os submenus, as barras, os ícones e os demais itens que compõem os programas abordados nesta prova encontram-se na configuração padrão, conforme exposto anteriormente.

21) Dentre as opções do menu Iniciar do Windows 7 Professional, conforme imagem abaixo, a que permite realizar a instalação de impressoras é:



- a) Computador.
- b) Ajuda e Suporte.
- c) Dispositivos e Impressoras.
- d) Programas Padrão.

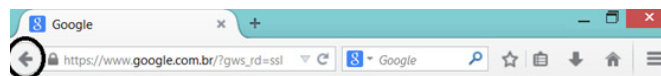
22) As interfaces de computador que são utilizadas para instalação de uma impressora são:

- a) HDMI e VGA.
- b) IDE e SATA.
- c) COM1 e PS/2.
- d) USB e paralela.

23) Considerando-se a barra do navegador Mozilla Firefox, pode-se afirmar que o acionamento do botão



realiza a seguinte função:



- a) Atualiza o site www.google.com.br.
- b) Carrega a última página acessada.
- c) Coloca o site www.google.com.br como favorito.
- d) Verifica se o site é seguro para navegação.

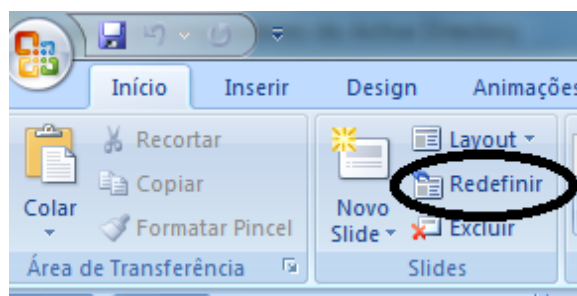
24) Por padrão, o Adobe Reader XI é executado no modo protegido para oferecer uma camada adicional de segurança. Sobre o modo protegido, analisar os itens abaixo:

- I - No modo protegido, documentos PDF maliciosos não podem iniciar arquivos executáveis arbitrários ou gravar em diretórios do sistema ou no Registro do Windows.
- II - A maioria dos recursos está desativada na Exibição protegida. O usuário pode exibir o PDF, mas não é possível executar outras ações.
- III - No modo de exibição protegido, uma barra amarela é exibida na parte superior da janela do Reader. Para sair da Exibição protegida, é necessário clicar em Ativar todos os recursos.

Estão CORRETOS:

- a) Somente os itens I e II.
- b) Somente os itens I e III.
- c) Somente os itens II e III.
- d) Todos os itens.

25) A opção Redefinir do menu Início do PowerPoint 2007 tem a função de:



- a) Restabelecer as configurações de padrão de posição, tamanho e formatação dos espaços reservados dos slides.
- b) Recarregar slides apagados.
- c) Reorganizar os slides em um formato padronizado.
- d) Redefinir todos os slides como um novo slide.

LEGISLAÇÃO, CONHECIMENTOS GERAIS E ESPECÍFICOS

Atenção! Em todas as questões de legislação desta prova, serão consideradas as leis e suas alterações até a data do início das inscrições deste concurso.

Conhecimentos Gerais

26) Considerando-se os direitos do cidadão, marcar C para as afirmativas Certas, E para as Erradas e, após, assinalar a alternativa que apresenta a sequência CORRETA:

- () O direito à moradia digna é um direito social, como o direito à saúde e à educação.
- () A educação é direito de todos e obrigação do Estado e da família.
- () Somente tem direito de ser orientado e defendido por um advogado quando tiver problemas para resolver na Justiça ou quando precisar saber como agir em relação a órgãos públicos, particulares ou empresas, aquele cidadão que estiver em dia com a Receita Federal.

- a) C - C - E.
- b) E - C - C.
- c) C - E - E.
- d) E - C - E.

27) A responsabilidade ambiental é um conjunto de atitudes, individuais ou empresariais, voltado para o desenvolvimento sustentável do planeta. Ou seja, essas atitudes devem levar em conta o crescimento econômico ajustado à proteção do meio ambiente na atualidade e para as gerações futuras, garantindo a sustentabilidade. Em relação às atitudes que envolvam a responsabilidade ambiental empresarial, analisar os itens abaixo:

- I - Tratar e reutilizar a água dentro do processo produtivo.
- II - Dar preferência para a compra de matéria-prima de empresas que também sigam os princípios da responsabilidade ambiental.
- III - Adotar ações que possam provocar danos ao meio ambiente como, por exemplo, poluição de rios e desmatamento.

Está(ão) CORRETO(S):

- a) Somente o item III.
- b) Somente os itens I e II.
- c) Somente os itens II e III.
- d) Todos os itens.

Legislação e Conhecimentos Específicos

28) Em conformidade com a Constituição Federal, a República Federativa do Brasil rege-se nas suas relações internacionais pelos seguintes princípios:

- I - Desigualdade entre os Estados.
- II - Solução armada dos conflitos.
- III - Cooperação entre os povos para o progresso da humanidade.

Está(ão) CORRETO(S):

- a) Somente o item III.
- b) Somente o item II.
- c) Somente os itens I e II.
- d) Somente os itens II e III.

29) De acordo com a Lei nº 8.069/90 - ECA, analisar os itens abaixo:

- I - A criança e o adolescente têm direito à liberdade, ao respeito e à dignidade como pessoas humanas em processo de desenvolvimento e como sujeitos de direitos civis, humanos e sociais garantidos na Constituição e nas leis.
- II - O direito à liberdade compreende os seguintes aspectos: ir, vir e estar nos logradouros públicos e espaços comunitários, ressalvadas as restrições legais, crença e culto religioso, entre outros.

- a) Os itens I e II estão corretos.
- b) Somente o item I está correto.
- c) Somente o item II está correto.
- d) Os itens I e II estão incorretos.

30) De acordo com a Lei Orgânica Municipal, é CORRETO afirmar que:

- a) O órgão Legislativo do Município é a Câmara de Vereadores composta de Vereadores eleitos em pleito indireto para um mandato de quatro anos, regendo-se por seu Regimento Interno.
- b) A Câmara Municipal funciona com a presença, no máximo, da maioria de seus membros e as deliberações são tomadas por maioria de votos dos presentes, salvo os casos previstos nesta Lei Orgânica e no Regimento Interno.
- c) A fiscalização financeira e orçamentária do Município é feita mediante controle externo da Câmara Municipal e pelos sistemas de controle interno do Executivo Municipal.
- d) São servidores do Município todos quantos percebem pelos cofres municipais, reservando-se a denominação de funcionários para os que integram o sistema classificado em cargos exclusivos de comissão.

31) De acordo com a Lei Municipal nº 1.883/01, é CORRETO afirmar que:

- a) O servidor nomeado para cargo de provimento efetivo em virtude de concurso público adquire estabilidade após dois anos de efetivo exercício.
- b) Vencimento é o salário pago ao servidor pelo efetivo exercício do cargo, correspondente ao valor fixado em lei sem possibilidade de alterações.
- c) A função de confiança a ser exercida exclusivamente por servidor público efetivo, deverá ocorrer sob a forma de função gratificada.
- d) Readaptação é a investidura do servidor efetivo em cargo de atribuições e responsabilidades compatíveis com a limitação que tenha sofrido em sua capacidade física ou mental, verificada em inspeção médica.

32) Em conformidade com a Lei Municipal nº 1.883/01, analisar a sentença abaixo:

A ajuda de custo destina-se a cobrir as despesas de viagem e instalação do servidor que for designado para exercer missão ou estudo fora do Município, por tempo que justifique a mudança temporária de residência (1ª parte). O adicional por tempo de serviço é devido à razão de 10% por ano de serviço público ininterrupto prestado ao Município, incidente sobre o vencimento da classe do servidor ocupante de cargo efetivo (2ª parte).

A sentença está:

- a) Totalmente correta.
- b) Correta somente em sua 1ª parte.
- c) Correta somente em sua 2ª parte.
- d) Totalmente incorreta.

33) De acordo com PEREIRA et al., são características das crianças de três a quatro anos:

- I - Apresentam dificuldade para aprender coisas novas.
- II - Apreciam atividades físicas de forma moderada.
- III - Têm sentimentos intensos, mas passageiros.
- IV - Mostram prazer em desenhar formas, figuras, imagens, etc.

Estão CORRETOS:

- a) Somente os itens I e II.
- b) Somente os itens I e III.
- c) Somente os itens III e IV.
- d) Todos os itens.

34) Segundo CRAIDY e KAERCHER em relação ao desenvolvimento infantil, analisar a sentença abaixo:

Através do contato com seu próprio corpo, com as coisas do seu ambiente, bem como através da interação com outras crianças e adultos, as crianças vão desenvolvendo a capacidade afetiva, a sensibilidade e a autoestima, o raciocínio, o pensamento e a linguagem (1ª parte). A articulação entre os diferentes níveis de desenvolvimento (motor, afetivo e cognitivo) se dá de forma isolada e não de forma simultânea e integrada (2ª parte).

A sentença está:

- a) Totalmente incorreta.
- b) Correta somente em sua 2ª parte.
- c) Correta somente em sua 1ª parte.
- d) Totalmente correta.

35) CRAIDY e KAERCHER enfatizam as ideias de alguns autores sobre o desenvolvimento infantil. Com base nesses autores, numerar a 2ª coluna de acordo com a 1ª e, após, assinalar a alternativa que apresenta a sequência CORRETA:

- (1) Wallon.
- (2) Piaget.
- (3) Vygotsky.

- () O desenvolvimento se dá de forma descontínua, sendo marcado por rupturas e retrocessos. A cada estágio do desenvolvimento infantil há uma reformulação e não simplesmente uma adição ou reorganização dos estágios anteriores.
- () Afirmava que a relação dos indivíduos com o mundo não é direta, mas mediada por sistemas simbólicos, em que a linguagem ocupa um papel central.
- () O desenvolvimento era compreendido a partir de estágios: sensório-motor e pré-operacional.

- a) 1 - 3 - 2.
- b) 2 - 1 - 3.
- c) 3 - 2 - 1.
- d) 3 - 1 - 2.

36) De acordo com CRAIDY e KAERCHER, sobre o papel do profissional da escola de Educação Infantil, analisar os itens abaixo:

- I - Proporcionar experiências diversificadas e enriquecedoras, a fim de que as crianças possam fortalecer sua autoestima e desenvolver suas capacidades.
 - II - Manter um comportamento ético para com as crianças, não permitindo que estas sejam expostas ao ridículo ou que passem por situações constrangedoras.
- a) Somente o item I está correto.
b) Os itens I e II estão corretos.
c) Somente o item II está correto.
d) Os itens I e II estão incorretos.

37) Segundo o manual Dez passos para uma Alimentação Saudável, marcar C para as afirmativas Certas, E para as Erradas e, após, assinalar a alternativa que apresenta a sequência CORRETA:

- () É necessário saber distinguir o desconforto da criança por fome de outras situações como, sede, sono, frio, calor, fraldas molhadas ou sujas, e não oferecer comida ou insistir para que a criança coma quando ela não está com fome.
 - () É recomendável oferecer a alimentação complementar, sem rigidez de horários, com intervalos regulares para que a criança sinta a necessidade de se alimentar.
 - () São aconselháveis práticas nocivas de gratificação ou coercitivas para conseguir que as crianças comam o que eles (os pais ou cuidadores) acreditam que seja o necessário para ela.
- a) C - C - E.
b) E - C - C.
c) C - E - C.
d) E - C - E.

38) Segundo PEREIRA et al., sobre a higiene bucal das crianças, entende-se que:

- I - A higiene jamais deve ser realizada com a ponta da fralda já no aparecimento dos primeiros dentes.
- II - A quantidade de pasta deve ser do tamanho de um grão de lentilha.
- III - Até os cinco anos, o uso do flúor deve ser apenas o da pasta dental.

Estão CORRETOS:

- a) Somente os itens II e III.
b) Somente os itens I e II.
c) Somente os itens I e III.
d) Todos os itens.

39) Segundo o manual Brinquedos e Brincadeiras de Creches, analisar os itens abaixo:

- I - Ainda que o brincar possa ser considerado um ato inerente à criança, exige um conhecimento, um repertório que ela precisa aprender.
- II - Para brincar em uma instituição de Educação Infantil basta apenas disponibilizar brincadeiras e brinquedos, sendo desnecessário o processo de planejamento do espaço físico e de ações intencionais que favoreçam um brincar de qualidade.
- III - A pouca qualidade ainda presente na Educação Infantil pode estar relacionada à concepção equivocada de que o brincar depende apenas da criança, não demanda suporte do adulto, observação, registro nem planejamento.

Estão CORRETOS:

- a) Somente os itens II e III.
b) Somente os itens I e II.
c) Somente os itens I e III.
d) Todos os itens.

40) Segundo os Cadernos de Atenção Básica, a forma mais adequada para o acompanhamento do crescimento de uma criança, nos serviços básicos de saúde, é:

- a) As anotações no prontuário da enfermaria do Posto de Saúde.
- b) O registro periódico do peso no Gráfico Peso/Idade do Cartão da Criança.
- c) Os registros feitos diretamente no hospital onde a criança nasceu.
- d) Os registros das atividades realizadas pela criança na creche que frequenta.